
PRÓBNY EGZAMIN MATURALNY Z INFORMATYKI STYCZEŃ 2019

Arkusz I

Czas pracy: **60 minut**

Liczba punktów do uzyskania: **15**

Instrukcja dla zdającego

1. Sprawdź, czy arkusz egzaminacyjny zawiera 9 stron (zadania 1 – 3). Ewentualny brak zgłoś przewodniczącemu zespołu nadzorującego egzamin.
 2. Rozwiązania i odpowiedzi zamieść w miejscu na to przeznaczonym.
 3. Pisz czytelnie. Używaj długopisu/pióra tylko z czarnym tuszem/atramentem.
 4. Nie używaj korektora, a błędne zapisy wyraźnie przekreśl.
 5. Pamiętaj, że zapisy w brudnopisie nie podlegają ocenie.
 6. Wpisz poniżej zadeklarowane (wybrane) przez Ciebie na egzamin środowisko komputerowe, kompilator języka programowania oraz program użytkowy.
 7. Jeżeli rozwiązaniem zadania lub jego części jest algorytm, to zapisz go w wybranej przez siebie notacji: listy kroków, pseudokodu lub języka programowania, który wybrałaś/eś na egzamin.
-

Dane uzupełnia uczeń:

WYBRANE:

.....

(środowisko)

.....

(kompilator)

.....

(program użytkowy)

PESEL:

--	--	--	--	--	--	--	--	--	--	--	--

Klasa:

--	--	--

Zadanie 1. Test (0-5)

Oceń, czy poniższe zdania są prawdziwe. Zaznacz **P**, jeśli zdanie jest prawdziwe, albo **F**, jeśli zdanie jest fałszywe. W każdym zadaniu uzyskasz punkt, jeśli poprawnie odpowiesz na wszystkie jego części.

Zadanie 1.1. (0–1)

Przepustowość łącza internetowego wynosi 300Mb/s (megabitów na sekundę). Który z podanych plików, których wielkość wyrażoną w megabajtach podajemy poniżej, jest największym, który można przesłać przez podane łącze w czasie jednej sekundy.

1.	3 megabajty	P	F
2.	30 megabajtów	P	F
3.	35 megabajtów	P	F
4.	300 megabajtów	P	F

Zadanie 1.2. (0–1)

Kolory w języku HTML mogą być reprezentowane zgodnie z modelem przestrzeni barw RGB. W tym modelu spotkamy kod złożony z kilku liczb systemu szesnastkowego: np. #00FD43. Który z podanych zapisów barw, przedstawia kolor będący odcieniem szarości?

1.	#AA00AA	P	F
2.	#00AA00	P	F
3.	#0000AA	P	F
4.	#A0A0A0	P	F

Zadanie 1.3. (0–1)

Sortowanie, w którym nie porównuje się ze sobą porządkowanych elementów to:

1.	Sortowanie przez zliczanie	P	F
2.	Sortowanie przez wybór	P	F
3.	Sortowanie szybkie	P	F
4.	Sortowanie przez scalanie	P	F

Zadanie 1.4. (0–1)

Przyporządkuj definicje do pojęć.

Pojęcia:

1.	Phishing
2.	Firmware
3.	Freeware
4.	Phreaking

Definicje:

A	nielegalne podłączenie się do sieci komputerowej w taki sposób, że koszty ponosi inna osoba
B	proceder polegający na wykradaniu poufnych danych dostępowych, np. loginów i ich haseł
C	licencja na bezpłatne użytkowanie programu, autor programu zachowuje prawo autorskie
D	licencja na oprogramowanie sterująca sprzętem komputerowym, które jest umieszczone w nim na stałe

W poniższej tabeli, w kolumnie Definicja, wpisz odpowiednie litery.

Pojęcie	Definicja
1.	
2.	
3.	
4.	

Zadanie 1.5. (0–1)

W systemach obsługi baz danych posługujemy się językiem zapytań SQL. W celu zliczenia liczby wszystkich wierszy w tabeli z danymi osobowymi, zapytanie może mieć postać:

1.	select count (*) as liczba from tabela where ubezpieczenie='1';	P	F
2.	select suma from tabela where ubezpieczenie='1';	P	F
3.	select count (*) from tabela;	P	F
4.	select (*) from tabela;	P	F

Wypełnia egzaminator	Numer zadania	1.1	1.2	1.3	1.4	1.5	Suma
	Maksymalna liczba punktów	1	1	1	1	1	5
	Uzyskana liczba punktów						

Zadanie 2. Liczby odkryte (0-5)

Liczba odkryta nazywamy liczbę całkowitą większą od 0, której wartość jest podzielna przez każdą cyfrę różną od zera, z której się składa jej zapis. Jeśli liczba całkowita jest zapisana w systemie liczbowym o podstawie p , gdzie $2 \leq p \leq 10$, to jest ona liczbą odkrytą, jeśli jej wartość w systemie dziesiętnym jest podzielna przez każdą cyfrę różną od zera, z której się składa jej zapis w systemie o podstawie p .

Przykłady:


Dla $p=10$ liczbą odkrytą jest liczba 24, ponieważ dzieli się przez 2 oraz 4, natomiast przykładem liczby nieodkrytej jest liczba 26, ponieważ dzieli się przez 2, ale nie dzieli się przez 6.

Zadanie 2.1 (0–1)

W tabeli podano liczby zapisane w systemie dziesiętnym. Sprawdź, czy podane liczby są liczbami odkrytymi, a następnie uzupełnij poniższą tabelę.

Liczba	Liczba odkryta TAK/NIE
15	TAK
308	NIE
2436	
12774	
31662	

Miejsce na obliczenia:




Zadanie 2.2 (0–1)

Tabela zawiera liczby zapisane w różnych systemach pozycyjnych. Sprawdź, czy podane liczby są liczbami odkrytymi, a następnie uzupełnij poniższą tabelę.

Liczba	System liczbowy	Liczba odkryta TAK/NIE
222	czwórkowy	TAK
414	piątkowy	NIE
154	szóstkowy	
470	ósemkowy	
333	dziwiątkowy	

Miejsce na obliczenia:



Zadanie 2.3 (0–3)


W wybranym przez Ciebie języku programowania zapisz funkcję, która sprawdza czy liczba podana w systemie dziesiętnym jest liczbą odkrytą.

Dane:

Liczba całkowita: $n > 0$.

Wynik:

Wartość logiczna, która reprezentuje w wybranym przez Ciebie języku programowania prawdę, gdy liczba n jest liczbą odkrytą, fałsz – gdy liczba n nie jest liczbą odkrytą.



	Numer zadania	2.1	2.2	2.3	Suma
Wypełnia egzaminator	Maksymalna liczba punktów	1	1	3	5
	Uzyskana liczba punktów				

Zadanie 3. Ciąg liczb kolejnych (0-5)

Podciągem danego ciągu liczb naturalnych nazwiemy ciąg składający się z dowolnie wybranych liczb, których kolejność jest taka sama jak w ciągu początkowym. Na przykład dla ciągu (5, 3, 7, 1, 6), jego podciągami są (5, 1, 6), (3,7), (6), ale nie (3,5), (7,1,3).


Ciągiem **liczb kolejnych** nazwiemy rosnący podciąg składający się z kolejnych liczb naturalnych, np. (3,4,5,6,7). Długością takiego ciągu jest liczba jego elementów, np. ciąg (3,4,5) ma długość 3.

Zadanie 3.1 (0-1)

Uzupełnij poniższą tabelkę. Dla danego ciągu podaj długość jego najdłuższego podciągu, który jest ciągiem liczb kolejnych zaczynającym się od 1.

Dane	Wynik
3,6,1,8,2,5,3,2,5,1,4,8,9,6	4
5,7,4,1,6,2,3,4,7,3,8,4,5,3,5	
6,7,3,7,4,9,1,6,4,2,6,4	
9,8,7,6,5,4,3,2,1	

Miejsce na obliczenia



Zadanie 3.2 (0–4)


Napisz program w wybranej przez siebie notacji (schemat blokowy, lista kroków, język programowania), zgodny z poniższą specyfikacją.

Dane:

- n – liczba naturalna nie większa niż 100,
- ciąg n liczb naturalnych, każda z zakresu [1,100].

Wynik:

Długość najdłuższego podciągu danego ciągu liczb, który jest ciągiem liczb kolejnych zaczynającym się od 1.



	Numer zadania	3.1	3.2	Suma
Wypełnia egzaminator	Maksymalna liczba punktów	1	4	5
Wypełnia egzaminator	Uzyskana liczba punktów			

BRUDNOPIS (*nie podlega ocenie*)